

COLÉGIO MARQUES RODRIGUES

 Estrada da Água Branca, 2551 – Realengo – RJ
 Tel: (21) 3462-7520 – www.colegiomr.com.br


Questão 1:

Circule os brinquedos que são antigos.


Questão 2:

Relacione os memes a cruzadinha.

- 1- Pipa
- 2- boneca
- 3- dominó
- 4- boliche
- 5- pião
- 6- amarelinha
- 7- dado


Questão 3:

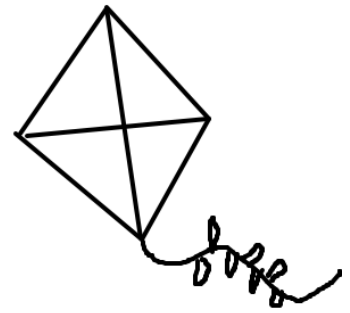
Agora coloque os memes dos brinquedos antigos na ordem alfabética.

- 1- _____
- 2- _____
- 3- _____

- 4- _____
- 5- _____
- 6- _____
- 7- _____

Questão 4:

Pinte o brinquedo antigo e qual o seu nome começa com a letra (b).



Questão 5:


Complete os nomes dos brinquedos, usando as vogais.



P _ T _ C _




C _ RD _



B _ C _ CL _ T _



B _ N _ C _




C _ RR _ NH _



P _ T _ NS

Questão 6:

Pinte os brinquedos que funcionam manualmente de laranja e de amarelo os eletrônicos.



Questão 7:

Você tem algum brinquedo eletrônico? Qual o nome dele?

Questão 8:

Agora me responda se você tem algum brinquedo antigo? Desenhe-o ao lado e coloque o nome dele



Questão 9:

Nos quadros abaixo desenhe um brinquedo antigo que com passar de tempo evoluiu.



Questão 10:

Das brincadeiras abaixo, qual você mais gosta? Marque.



Questão 11:

As brincadeiras antigas tem alguma influência indígena?

sim ou não

Questão 12:

Ligue cada brincadeira ao seu nome:





Queimada

Amarelinha



Pular corda

Elástico



Questão 13:

Complete:

Os índios usam as brincadeiras para desfrutar a companhia dos

(amigos)

ou

(inimigos)

Questão 14:

As brincadeiras indígenas são iguais em todas as tribos? _____

Questão 15:

Adultos e crianças sempre brincam juntos?

() sim

() não

Questão 16:

Pinte os quadros que afirmam o que a eletricidade pode nos fornecer.

conforto


desconforto

facilidade

comodidade

Questão 17:

Pinte o que pode ser usado quando nos falta energia elétrica, durante a noite.




Questão 18:

O que são Usinas elétricas?

Questão 19:

Envolva somente a Usina Hidrelétrica.



Questão 20:

Segundo o informativo do livro da pág. 201. Marque qual dos aparelhos gasta mais energia.

